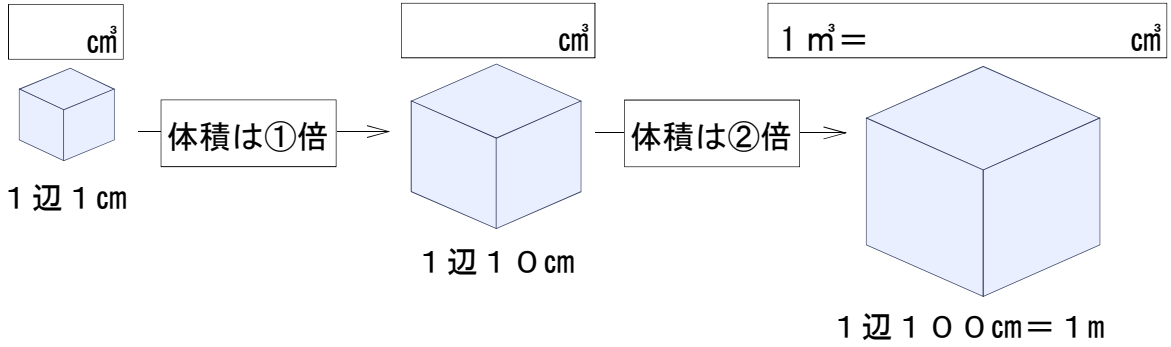


○次の□にあてはまる答えを書きましょう。

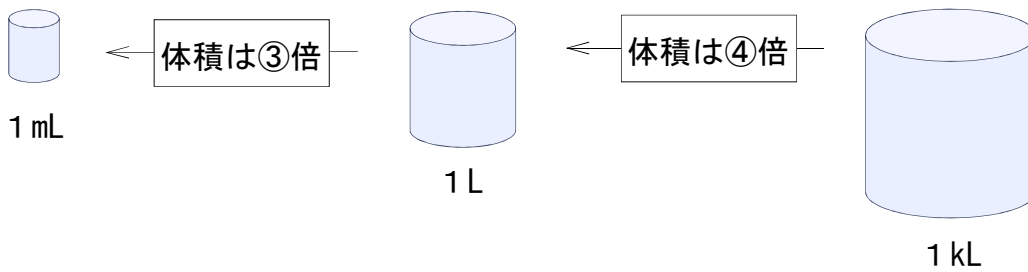
☆立方体の辺の長さとの関係に注目



① □
体積は □ 倍

② □
体積は □ 倍

☆「m(ミリ)」や「k(キロ)」に注目



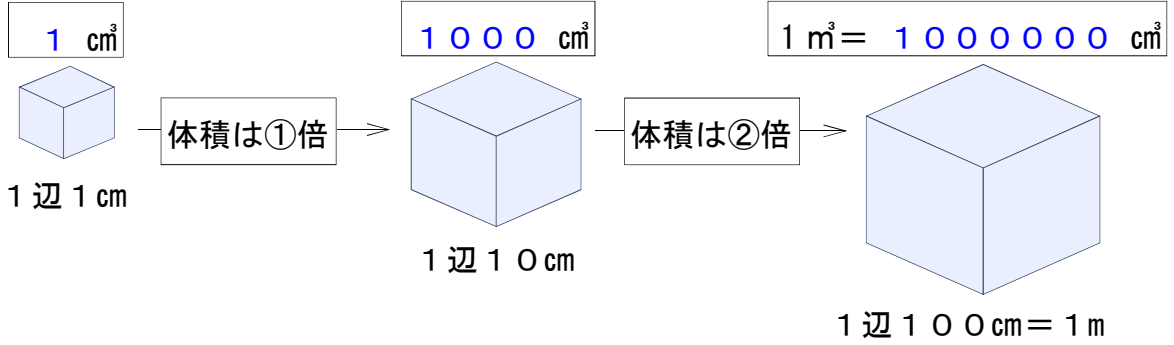
③ □
体積は □ 倍

④ □
体積は □ 倍

小5 算数「量の単位」3 解答・解説

○次の□にあてはまる答えを書きましょう。

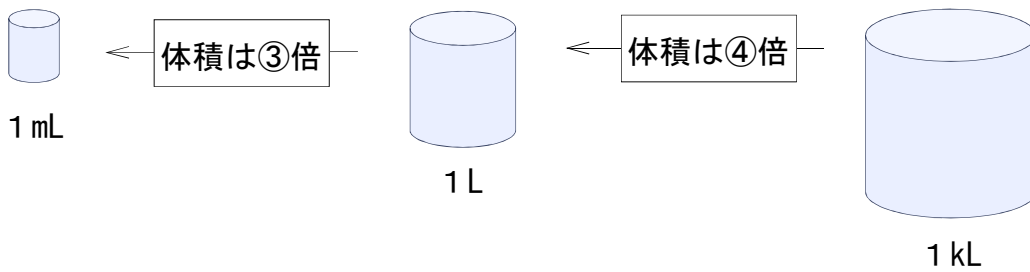
☆立方体の辺の長さとの関係に注目



① 体積は 1 0 0 0 倍

② 体積は 1 0 0 0 倍

☆「m(ミリ)」や「k(キロ)」に注目



③ 体積は $\frac{1}{1000}$ 倍

④ 体積は $\frac{1}{1000}$ 倍

※m(ミリ)は $\frac{1}{1000}$ を表しています。

※k(キロ)は1000倍を表しています。