

小4 算数「小数」1

組 番氏名 _____

1 次の数をかきましょう。

(1) 1を3こ, 0.1を5こ, 0.01を6こ,
0.001を8こあわせた数

答え _____

(2) 0.01を275こ集めた数。

答え _____

2 次の数は, それぞれ0.001を何こ集めた数でしょうか。

(1) 0.029

答え _____

(2) 5.01


答え _____

3 下の数直線上に, (例)と同じように次の数を表すめもりに ↓ をかきましょう。

(例) 0.07

(1) 0.15

(2) 0.183



4 次の数を10倍した数, $\frac{1}{10}$ した数をかきましょう。

▼ 10倍した数

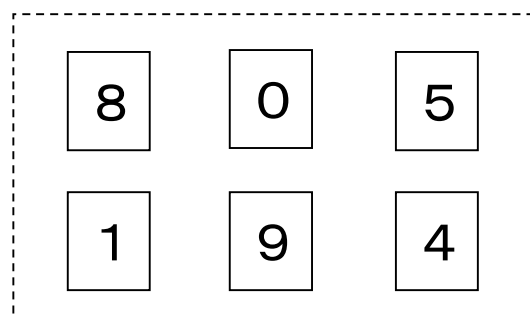
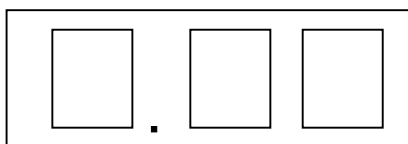
▼ $\frac{1}{10}$ した数

(1) 0.7 () ()

(2) 3.56 () ()

(3) 0.09 () ()

5 下の□に右のカードをあてはめて, 次の数をつくりましょう。【思・判・表】



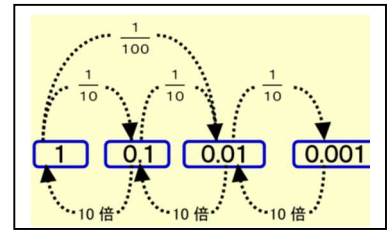
(1) いちばん大きい数

()

(2) いちばん小さい数

()

小4 算数「小数」1 かい答・かい説



1 次の数をかきましょう。

(1) 1を3こ, 0.1を5こ, 0.01を6こ,
0.001を8こあわせた数

答え 3.568

(2) 0.01を275こ集めた数。

答え 2.75

2 次の数は, それぞれ0.001を何こ集めた数でしょうか。


(1) 0.029

答え 29こ

(2) 5.01

答え 5010こ

3 下の数直線上の, (例)と同じように次の数をあらわすめもりに ↓ をかきましょう。



4 次の数を10倍した数, $\frac{1}{10}$ した数をかきましょう。

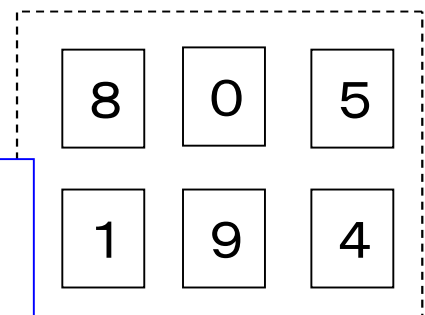
	▼ 10倍した数	▼ $\frac{1}{10}$ した数
(1) 0.7	(7)	(0.07)
(2) 3.56	(35.6)	(0.356)
(3) 0.09	(0.9)	(0.009)

10倍すると位が1つ上がります。

$\frac{1}{10}$ すると, 位が1つ下がります。

5 下の□に右のカードをあてはめて, 次の数をつくりましょう。

.



(1) いちばん大きい数
(9.85)

(2) いちばん小さい数
(0.14)

一の位から順にあてはめます。
(1) 大きい数 → 9. □□
(2) 小さい数 → 0. □□