

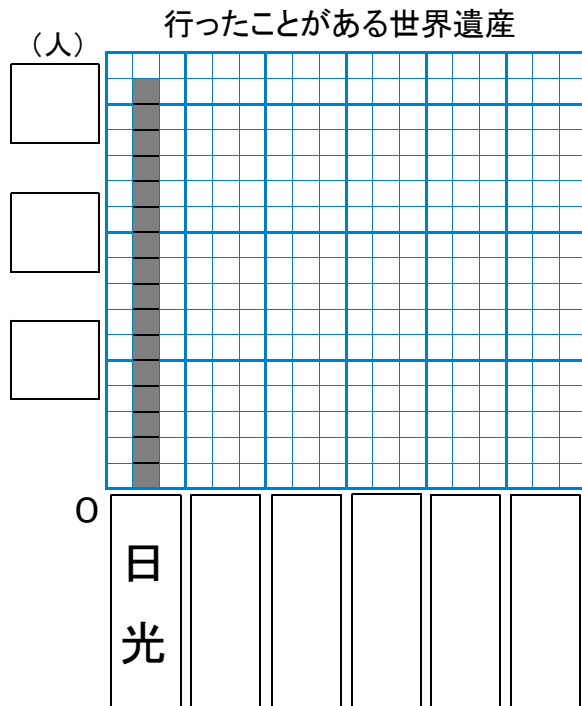
小3 算数「表とグラフ」

組 番 氏名


1 ゆう子さんのクラスで、行ったことのある日本の世界遺産について調べました。表を見て、ぼうグラフに表しましょう。

行ったことがある世界遺産

世界遺産	人数 (人)
日光 (にっこう)	16
富士山 (ふじさん)	12
京都 (きょうと)	9
げんぱくドーム	4
平泉 (ひらいずみ)	2
そのた	5











2 ある時間に、学校の前を通った乗りものを調べたら、次のようでした。



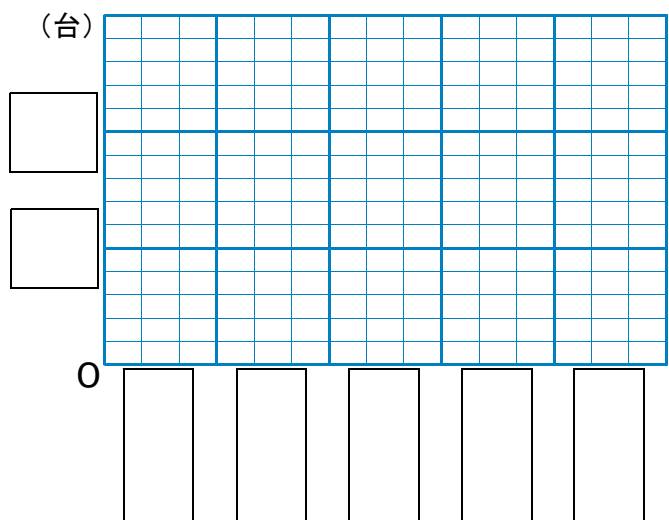
(1) 絵を見て表に整理しましょう。

学校の前を通った乗りもの

乗りもののしゅるい	台数 (台)
じょうようしゃ 乗 用 車  	
トラック 	
オートバイ 	
バス 	
そのた   	

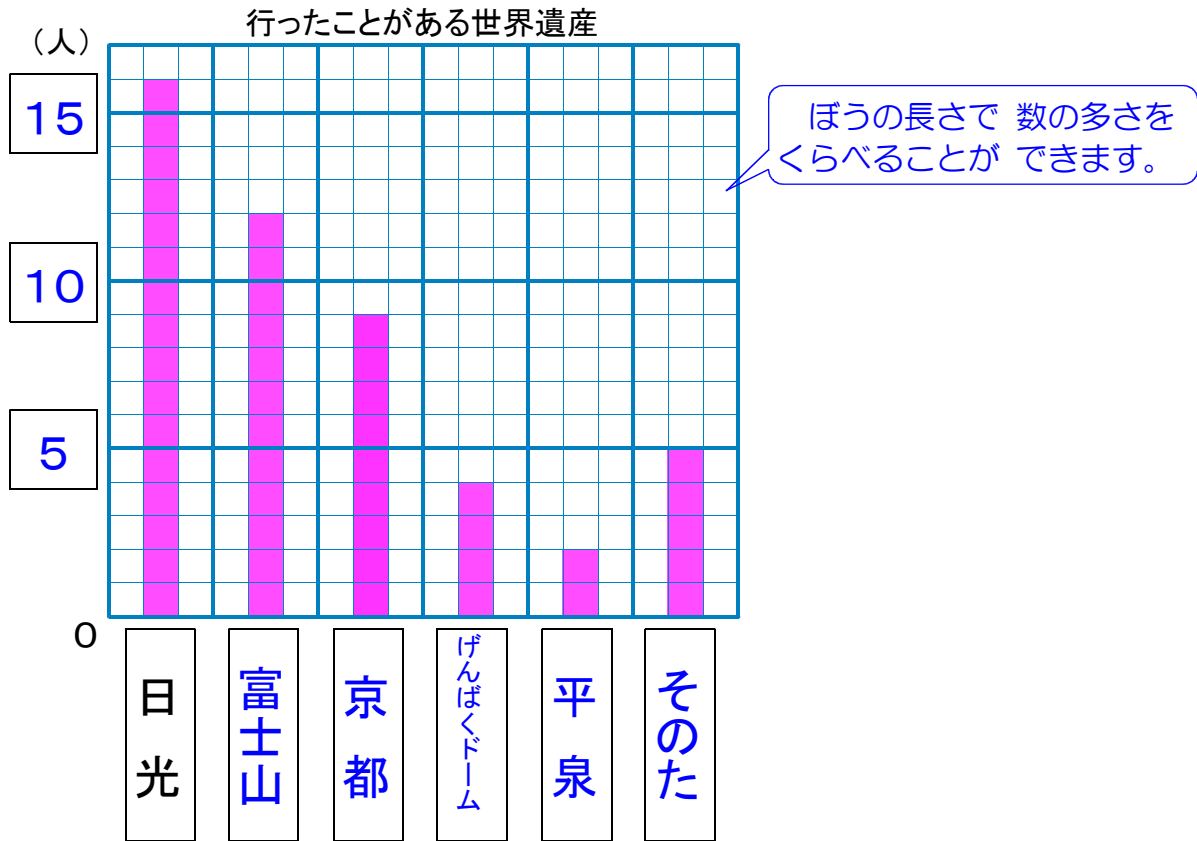
(2) 台数の多いじゆんに、ぼうグラフに表しましょう。

学校の前を通った乗りもの



小3 算数「表とグラフ」解答・解説

1



2

(1) 学校の前を通った乗りもの

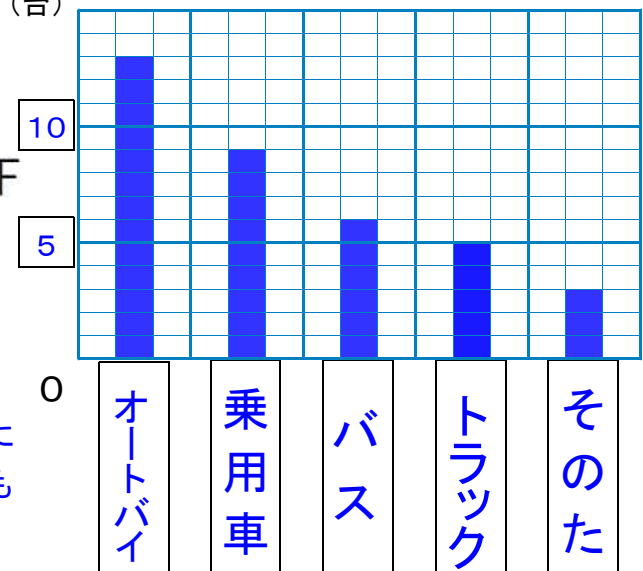
乗りもののしゅるい	台数(台)
乗 用 車	9
ト ラ ッ ク	5
オ ー ト バ イ	13
バ ス	6
そ の た	3

正 正  
正 正  
正 正 下  
正 正  
下

(2)

(台)

学校の前を通った乗りもの



【解説】

表の台数を調べてから、台数の多い順にぼうグラフを作ります。そのたは、いつも最後になります。

台数を数えるときには、”正”をつかうと、べんりです。