

1 口にあてはまる数をかきましょう。

(1) 1 kg = g (2) 1 L = g (3) 1 t = kg

(4) 3500g = kg g (5) 5kg750g = g

2 次の口にあてはまる、重さのたんいをかきましょう。

(1) 1円玉の重さ 1

(2) ランドセルの重さ 900

(3) テレビの重さ 35

(4) ぞうの重さ 4

3 次の問題に答えましょう。

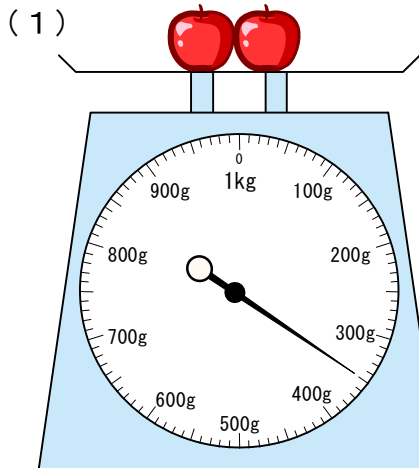
(1) 重さ300gのはこに、リンゴを900g入れました。重さはあわせて何gになりますか。また、何kg何gになりますか。

(式) 答え _____

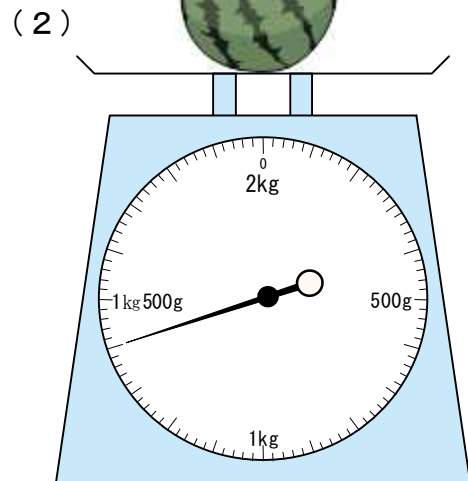
(2) 重さ800gのはこにスイカを入れて重さをはかると、あわせて2kg600gありました。スイカの重さは何kg何gでしょう。

(式) 答え _____

4 つぎの重さをいましょう。



答え _____



答え _____

小3 算数「重さ」解答・解説

1 口にあてはまる数をかきましょう。

- (1) $1\text{ kg} = \boxed{1000}\text{ g}$ (2) $1\text{ L} = \boxed{1000}\text{ g}$ (3) $1\text{ t} = \boxed{1000}\text{ kg}$
 (4) $3500\text{ g} = \boxed{3}\text{ kg} \boxed{500}\text{ g}$ (5) $5\text{ kg}750\text{ g} = \boxed{5750}\text{ g}$

2 次の口にあてはまる、重さのたんいをかきましょう。

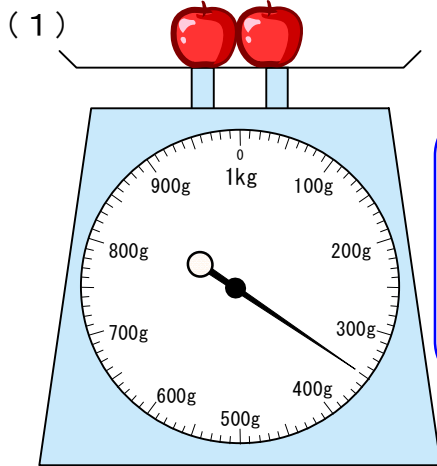
- (1) 1円玉の重さ $1 \boxed{\text{ g}}$
 (2) ランドセルの重さ $900 \boxed{\text{ g}}$
 (3) テレビの重さ $35 \boxed{\text{ kg}}$
 (4) ぞうの重さ $4 \boxed{\text{ t}}$

【解説】
 知っている身の回りのものの重さから、
 それぞれのものの重さを予想しましょう。
 たまご1つ = 60g
 自分の体重 = 30kg
 トラック1台 = 3t

3 次の問題に答えましょう。

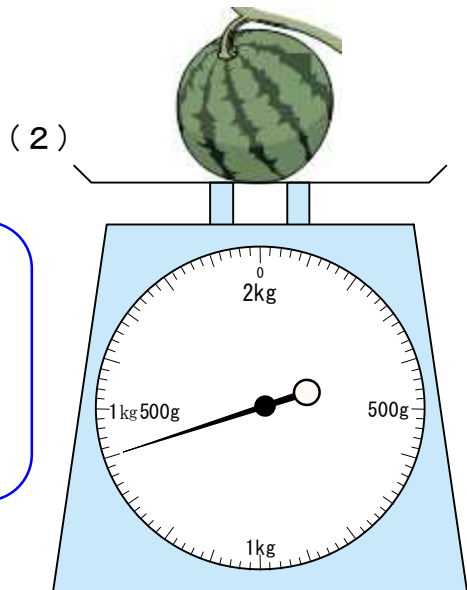
- (1) 重さ300gのはこに、リンゴを900g入れました。
 重さはあわせて何gになりますか。また、何kg何gになりますか。
 (式) $300\text{ g} + 900\text{ g} = 1200\text{ g}$ 答え 1200g, 1kg200g
- (2) 重さ800gのはこにスイカを入れて重さをはかると、あわせて2kg600gありました。スイカの重さは何kg何gでしょう。
 (式) $2\text{ kg}600\text{ g} - 800\text{ g} = 1\text{ kg}800\text{ g}$ 答え 1kg800g

4 つぎの重さをいみましょう。



答え 350g

【解説】
 大きいめもりから順に、1めもりが何gになっているかを調べましょう。



答え 1kg400g