

小2 算数「かけ算(1)」

くみ ばん 名まえ

1 つぎの かけ算を しましょう。

(1) 2×7

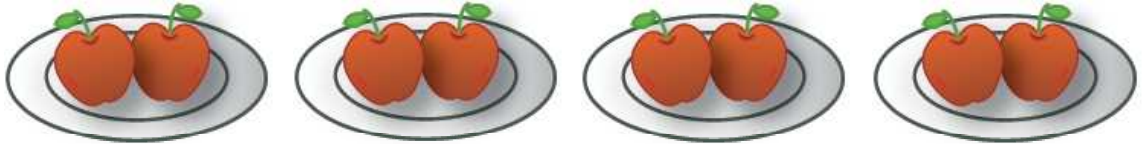
(2) 3×8

(3) 4×3

(4) 5×6

2 かけ算を 使って、つぎの ものの数を もとめましょう。

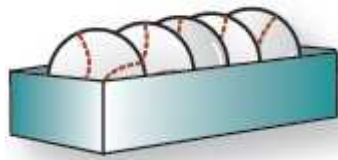
(1) りんごの数



\times =

個

(2) ボールの数



の3はこ分

\times =

個

(3) 1まい5円の がようし画用紙を 4まい か買います。

ぜんぶで 何円に なりますか。

かけ算を 使って、答えを もとめましょう。

(式)

(こたえ)

小2 算数「かけ算(1)」こたえ・せつめい

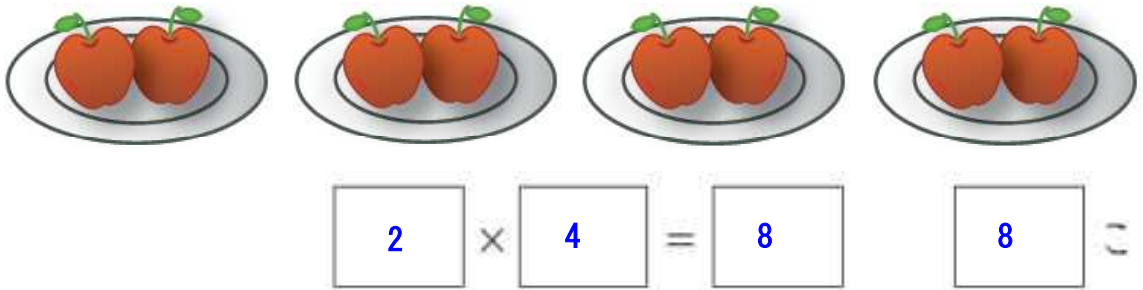
1 つぎの かけ算を しましょう。

(1) $2 \times 7 = 14$ (2) $3 \times 8 = 24$

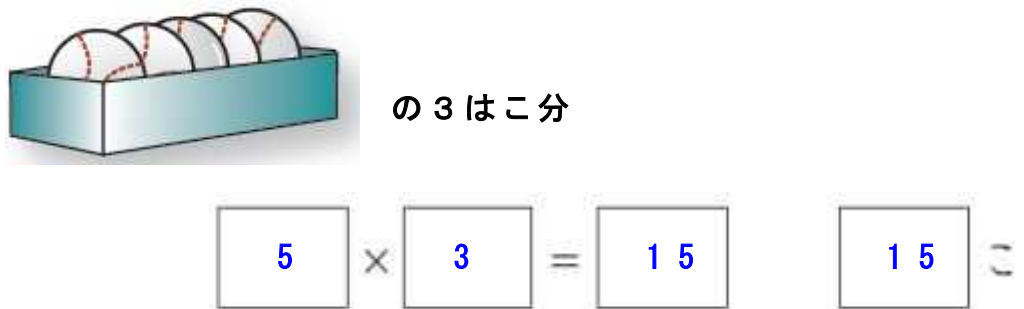
(3) $4 \times 3 = 12$ (4) $5 \times 6 = 30$

2 かけ算を 使って, つぎの ものの数を もとめましょう。

(1) りんごの数



(2) ボールの数



(3) 1まい5円の がようし画用紙を 4まいか買います。
ぜんぶで 何円に なりますか。
かけ算を 使って, 答えを もとめましょう。

(式) $5 \times 4 = 20$

画用紙1まい分のねだん×買ったまい数=ぜんぶのねだん

(こたえ) 20 まい