

小1 さんすう「0の たしざん と ひきざん」

くみ ばん なまえ

1 つぎの けいさんを しましょう。

(1) $1 + 0$

(2) $3 + 0$

(3) $10 + 0$

(4) $0 + 2$

(5) $0 + 8$

(6) $2 - 2$

(7) $9 - 9$

(8) $4 - 0$

(9) $6 - 0$

(10) $10 - 0$

2 あさがおの はなが きのう 5つ さきました。

きょうは さきません でした。

きのうと きょうで あさがおの はなは いくつ さきましたか。

(しき)

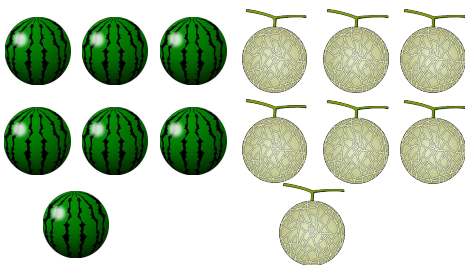
きょう さいた かずは 0 といえるね。



こたえ


3 ちがいは いくつでしょう。

(1) すいか と めろん



(しき)

(2) ぼうし と ぐるうぶ



(しき)

こたえ

こたえ

小1 さんすう「0の たしざん と ひきざん」こたえ・せつめい

1 つぎの けいさんを しましょう。

(1) $1 + 0 = 1$

(2) $3 + 0 = 3$

(3) $10 + 0 = 10$

(4) $0 + 2 = 2$

(5) $0 + 8 = 8$

(6) $2 - 2 = 0$

(7) $9 - 9 = 0$

(8) $4 - 0 = 4$

(9) $6 - 0 = 6$

(10) $10 - 0 = 10$

2 あさがおの はなが きのう 5つ さきました。

きょうは さきません でした。

きょう さいた かずは 0 といえるね。

きのうと きょうで あさがおの はなは いくつ さきましたか。

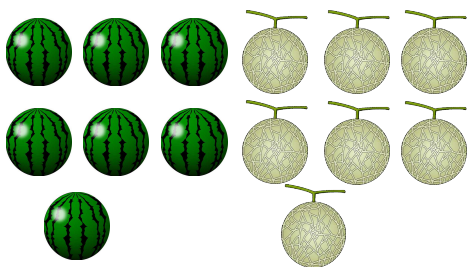
(しき) $5 + 0 = 5$



こたえ 5つ


3 ちがいは いくつでしょう。

(1) すいか と めろん



(しき) $7 - 7 = 0$

(2) ぼうし と ぐるうぶ



(しき) $8 - 8 = 0$

「ちがいが 0」ということは、
「おなじ」という いみ です。

こたえ 0こ

こたえ 0こ