


第3学年 しよくぶつ 植物をそだてよう (2)

組 番 氏名

- 1 ホウセンカがそだってきました。めが出たころとくらべて、つぎのことはどのようにかわりましたか。() に書きましょう。【思・判・表】

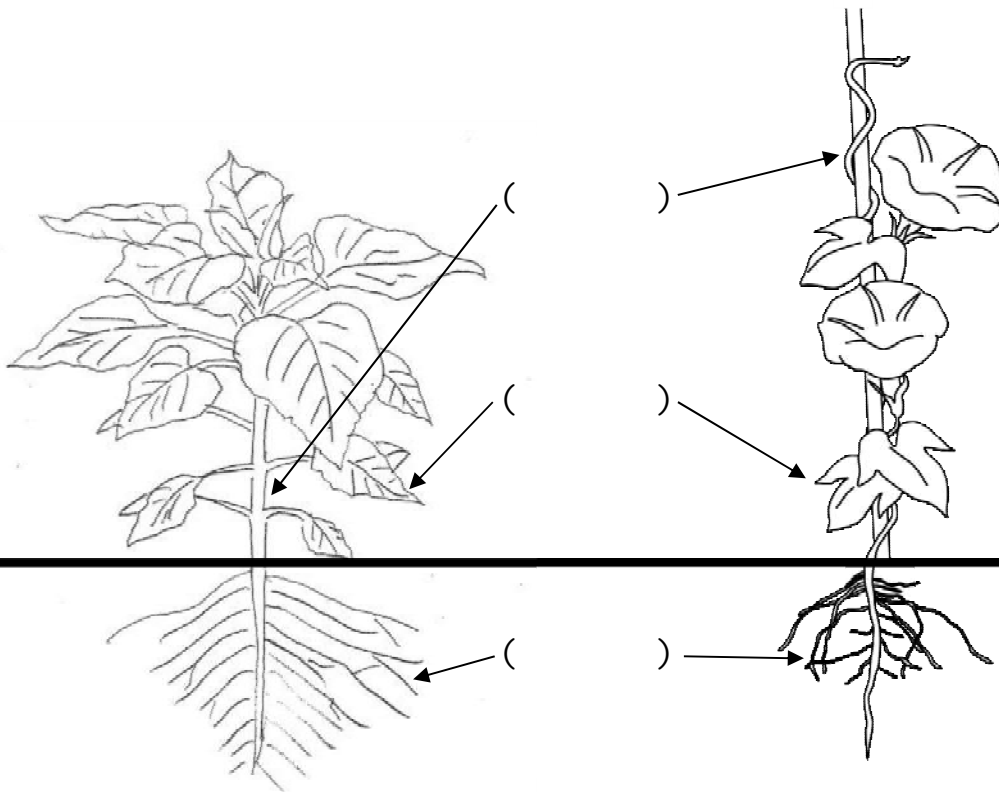


は 葉の数 ()

くきの太さ ()

しよくぶつ 植物の高さ ()


- 2 ヒマワリとアサガオの体は、どのようなつくりになっているでしょうか。やじるしぶぶんの部分の名前を書きましょう。



第3学年 しよくぶつ 植物をそだてよう (2) (解答)

組 番 氏名

1 ホウセンカがそだってきました。めが出たころとくらべて、つぎのことはどのようにかわりましたか。()に書きましょう。



は葉の数 (多くなった)

くきの太さ (太くなった)

しよくぶつ植物の高さ (高くなった)

2 ヒマワリとアサガオの体は、どのようなつくりになっているでしょうか。やじるしぶぶんの部分の名前を書きましょう。

