

- 1 社会科の授業で、あかりさんは、2023年に誕生150周年を迎える千葉県の「ちば文化資産」に関するレポートを作成した。次の資料1は、あかりさんが作成したレポートの一部である。これに関して、あとの(1)~(4)の問いに答えなさい。

資料1 あかりさんが作成した「ちば文化資産」に関するレポートの一部

佐倉城跡・ 城下町と時代 まつり (佐倉市)	1611年に城下町整備が始まり、城下町には武家屋敷などが配置されました。佐倉藩は1871年の <u>廃藩置県</u> で印旛県に編入されました。 <u>a</u>
やっぴがた 谷津干潟 (習志野市)	東京湾に残された干潟です。1993年にラムサール条約登録湿地となりました。 <u>自然環境</u> について学ぶことができる自然観察センターもあります。 <u>b</u>
東京湾アクア ラインと海ほ たるの景観 (木更津市)	木更津市と神奈川県川崎市をつないでいる <u>高速道路</u> です。海ほたるというパークینگエリアがあります。 <u>c</u>
かつうらあさいち 勝浦朝市 (勝浦市)	1591年に開催以来、420年以上の歴史がある朝市です。日本三大朝市の一つといわれており、多くの人が <u>観光</u> に訪れる名所になっています。 <u>d</u>



- (1) 資料1中の下線部aに関連して、次のア~ウの文は、19世紀後半のことがらについて述べたものである。ア~ウを年代の古いものから順に並べ、その符号を書きなさい。
- ア ^{さいごうたかもり}西郷隆盛を中心として、新政府に不満をもつ士族らが、西南戦争を起こした。
- イ 新政府は、藩主^{はん}に版^{せき}(土地)と籍^{はんせきほうかん}(人民)を政府に返させる版籍奉還を行った。
- ウ 富国強兵をめざす新政府は、徴^{ちよう}兵^{へい}令^{れい}を出し、満20歳になった男子に兵役^{へいえき}を義務づけた。

- (2) 資料1中の下線部bに関連して、次の文章は、あかりさんが日本の自然環境についてまとめたものの一部である。文章中の にあてはまる適当な語をカタカナで書きなさい。

近年、自然環境の問題が大きな話題になっています。その中でも、私が気になっていることの一つに、都市部の気温が、周辺部よりも高くなるという 現象があります。この現象は、ビルなどが多く建ち並ぶ、都市化が進んだ地域で見られます。その対策として、ビルの壁面^{へきめん}や屋上などの緑化が進められています。

- (3) 資料1中の下線部cに関連して、次の文章は、政府の経済活動について述べたものである。文章中の **I** ~ **III** にあてはまるものの組み合わせとして最も適当なものを、あとのア~エのうちから一つ選び、その符号を書きなさい。

政府の経済活動を **I** といいます。**I** の役割の一つとして、民間企業だけでは十分に提供できない、道路、公園及び橋などの **II** や教育、警察及び消防などの **III** の提供があり、政府が税金を使って行っています。

- ア I : 流 通 II : 社会資本 III : 公共サービス
 イ I : 流 通 II : 公共サービス III : 社会資本
 ウ I : 財 政 II : 社会資本 III : 公共サービス
 エ I : 財 政 II : 公共サービス III : 社会資本

- (4) 資料1中の下線部dに関連して、次の資料2と資料3中のA~Eは、資料4中の関東地方のいずれかの都県を示している。資料2~資料4を参考に、千葉県と埼玉県を示すものとして最も適当なものを、資料2と資料3中のA~Eのうちからそれぞれ一つずつ選び、その符号を書きなさい。

資料2 関東地方の各都県の山地面積、海岸線の長さ、2015~2020年の5年間の人口増減率

都県名	山地面積 (km ²) (1982年)	海岸線の長さ (km) (2014年)	人口増減率 (%) (2015~2020年)
A	1444	195	-1.66
栃木県	3388	—	-2.04
B	4887	—	-1.66
C	1230	—	1.11
D	388	534	1.03
E	848	763	4.07
神奈川県	895	431	1.25

資料4 関東地方の地図



資料3 関東地方の各都県の海水浴場数、スキー場数

都県名	海水浴場 (2021年)	スキー場 (2021年)
A	18	—
栃木県	—	5
B	—	19
C	—	—
D	59	—
E	35	—
神奈川県	22	—

(注) 「—」は皆無、または定義上該当数値がないものである。
 (資料2、資料3とも、「データで見る県勢2022」などより作成)

2 たかしさんたちは、次の図を使って学習した。これに関して、あとの(1)~(4)の問いに答えなさい。



(1) 次の文章は、たかしさんが中部地方のある県についてまとめたレポートの一部である。この県の県名を書きなさい。

この県では、温暖で水はけの良い土地の条件を生かし、広い台地が明治時代以降に開墾されました。そこでは、下の写真のように茶が栽培され、日本を代表する茶の産地になりました。また、工業においては特に製紙・パルプ工業が発展しています。

写真
(著作権の関係で省略)

(2) 次の文章は、ゆうこさんが図中の東京都の防災施設についてまとめたレポートの一部である。文章中の にあてはまることばとして最も適当なものを、あとのア~エのうちから一つ選び、その符号を書きなさい。

大都市では、地面の多くがアスファルトなどでおおわれています。そのため、右の写真のような、 が地下に設置され、災害から人々の暮らしを守るために機能しています。

- ア ^{がけくず}崖崩れが発生したとき、一時的に土砂をためておく施設
- イ 激しい雨が降ったとき、一時的に水をためておく施設
- ウ 火山が噴火したとき、一時的に噴出物^{ふんしゅつ}をためておく施設
- エ 地震が発生したとき、一時的に人々が避難する施設

写真
(著作権の関係で省略)

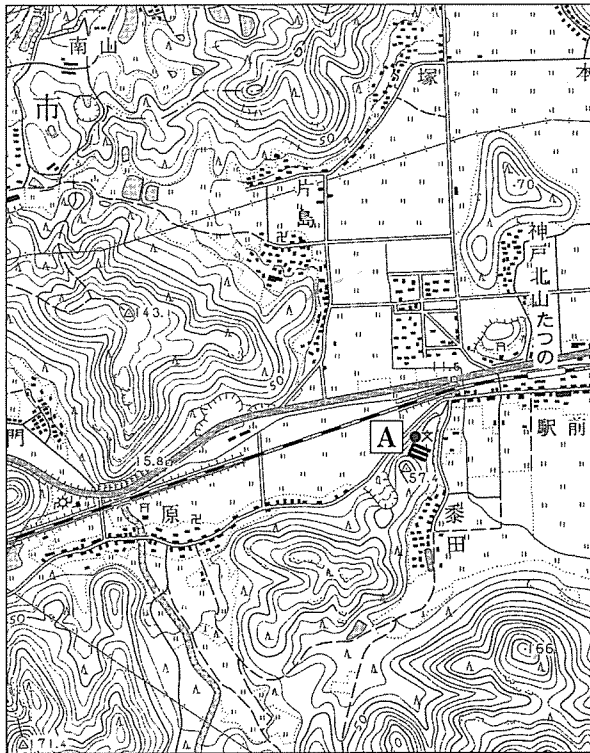
(3) 次の文章は、まさあきさんが図中の京都府のまちづくりについてまとめたレポートの一部である。文章中の にあてはまる適当なことばを、「景観」「建物」の二つの語を用いて30字以内(読点を含む。)で書きなさい。

右の写真のように、府庁所在地である京都市では、 を規制するなどの取り組みを行っています。一方で、住民の生活や権利と、歴史や伝統を守ることを両立させることが課題となっています。

写真
(著作権の関係で省略)

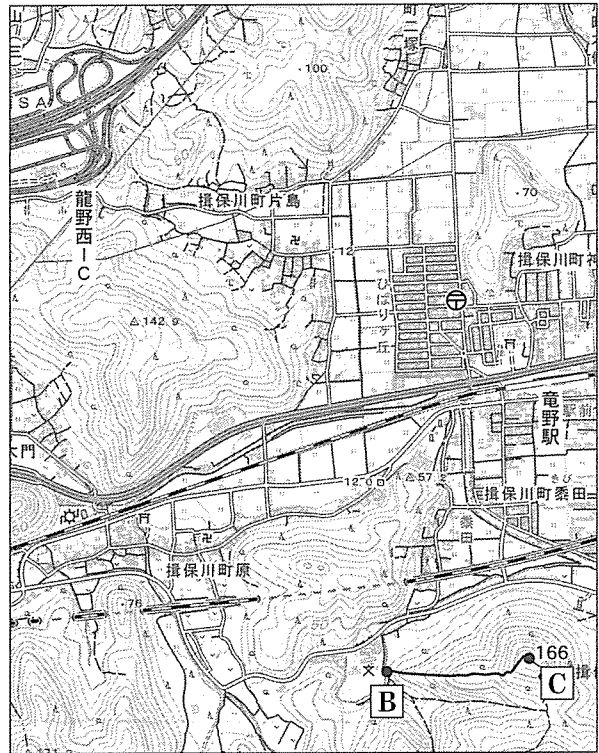
(4) 次の地形図1と地形図2は、それぞれ昭和48年及び令和2年発行の図中の兵庫県のある地域を示したものである。これらを見て、あとの①、②の問いに答えなさい。

地形図1



(国土地理院 昭和48年発行 1:25,000「網干」原図より作成)

地形図2



(国土地理院 令和2年発行 1:25,000「網干」原図より作成)



① 次の文章は、れいこさんが地形図1と地形図2を比較して読み取ったことがらをまとめたレポートの一部である。文章中の下線部ア～エのうち、内容が誤っているものを一つ選び、その符号を書きなさい。

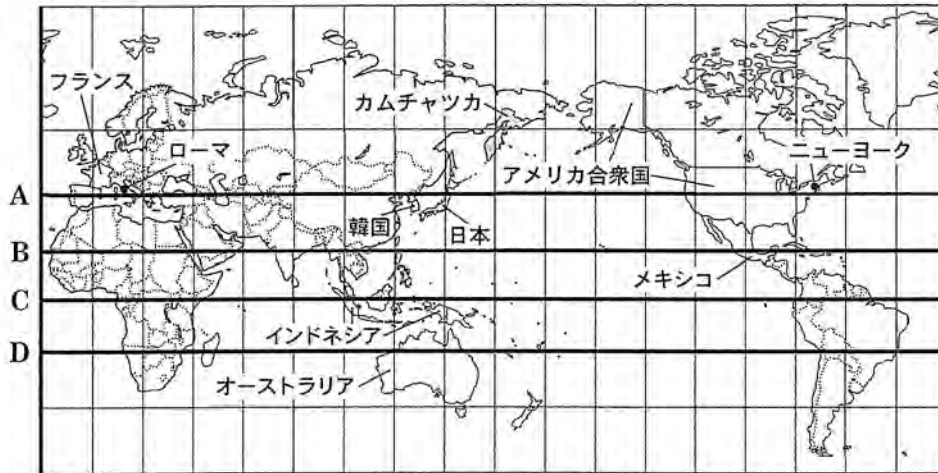
地形図1に比べて地形図2では、^{こうつうもう}交通網が整備され、開発も進んだことがわかります。この地域では、^{たつの}竜野駅から見て、^{たつのにし}北西に高速道路が開通し、^ア龍野西ICが作られました。また、この竜野駅の南側には、もともとあった鉄道に加えて、もう一つの^イ鉄道が整備されました。竜野駅の周辺では、住宅地が拡大し、^ウ郵便局が設けられました。さらに、地点A付近にあった小学校は、地点B付近に移転しました。この地点Aと地点Bの間の直線距離は、^エ1 km 以上あります。

② 次の文は、地形図2中の地点Bから地点Cに向かう道を歩いて調査したときの様子をまとめたものである。□ I □，□ II □ にあてはまる語の組み合わせとして最も適当なものを、あとのア～エのうちから一つ選び、その符号を書きなさい。

この道は、地点Bから地点Cに向かうと、全体的に □ I □ になっていて、2つの地点間の標高差は □ II □ です。

- | | | | | | |
|---|---------|---------------|---|---------|---------------|
| ア | I : 上り坂 | II : 100 m 以上 | イ | I : 上り坂 | II : 100 m 未満 |
| ウ | I : 下り坂 | II : 100 m 以上 | エ | I : 下り坂 | II : 100 m 未満 |

3 よしひろさんたちは、緯線と経線が直角に交わる次の地図を使って、世界の国々の様子について学習した。これに関して、あとの(1)~(5)の問いに答えなさい。



(注) 島等は省略したものもある。また、国境に一部未確定部分がある。

(1) 次の文章は、よしひろさんが、上の地図の特徴についてまとめたレポートの一部である。文章中の **I** にあてはまるものを、地図中の A~D のうちから一つ選び、その符号を書きなさい。また、**II** にあてはまるものとして最も適当なものを、あとのア~エのうちから一つ選び、その符号を書きなさい。

地図中の A~D の緯線のうち、赤道を表しているのは **I** です。また、この地図では、両端の太い経線が同じ経度を示しています。地図中の細かい経線は、**II** ごとに引かれています。

ア 経度 10 度 イ 経度 15 度 ウ 経度 20 度 エ 経度 25 度

(2) 次の詩は、地図中のカムチャツカ(地域)、メキシコ(国)、ニューヨーク(都市)及びローマ(都市)の様子をうたったものである。また、右の文章は、その詩について、くみさんとしほさんが話し合っている場面の一部である。文章中の **I**、**II** にあてはまる語の組み合わせとして最も適当なものを、あとのア~エのうちから一つ選び、その符号を書きなさい。

「谷川俊太郎詩集 続」より
『朝のリレー』
(著作権の関係で省略)

くみ：詩に登場する4つの場所では、カムチャツカが最も1日の始まりが早い地点だね。
しほ：そうすると、①と②では、①のカムチャツカが水曜日の夜の23時だとしたら、②のメキシコでは **I** 曜日の朝ということになるね。
くみ：そうだね。③と④では、③のニューヨークが日曜日の夜の23時だとしたら、④のローマでは **II** 曜日の朝ということになるよ。

ア I：水 II：日 イ I：水 II：月
ウ I：木 II：日 エ I：木 II：月

- (3) 次の文章は、かずやさんが、地図中のアメリカ合衆国の農業の様子についてまとめたレポートの一部である。文章中の , にあてはまるものの組み合わせとして最も適当なものを、あとのア～エのうちから一つ選び、その符号を書きなさい。

およそ西経100度を境に、東側よりも西側は降水量が ため、主に放牧が行われています。また、グレートプレーンズなどの内陸部では、右の写真のような円形の農地が見られます。このような形になっているのは、 しているからです。

写真
(著作権の関係で省略)

- ア I：少ない II：スプリンクラーで散水 イ I：少ない II：移動しながら家畜を飼育
ウ I：多い II：スプリンクラーで散水 エ I：多い II：移動しながら家畜を飼育

- (4) 次の文章は、みのりさんが、地図中のオーストラリアの国旗についてまとめたレポートの一部である。文章中の に共通してあてはまる国名をカタカナで書きなさい。

右のオーストラリアの国旗の左上には、 の国旗が入っています。18世紀後半に の植民地になったことで、オーストラリアには、ヨーロッパ系の移民が増加しました。その後、1970年代までは、ヨーロッパ系以外の移民は制限されましたが、現在ではアジア系の移民が増加し、アジアの国々との関係も強くなっています。



- (5) 次の資料は、たかのりさんが、地図中の韓国、フランス、インドネシア及び日本の人口、固定電話及び携帯電話の100人あたりの契約数についてまとめたものである。資料から読み取れることとして最も適当なものを、あとのア～エのうちから一つ選び、その符号を書きなさい。

資料 韓国、フランス、インドネシア及び日本の人口、固定電話及び携帯電話の100人あたりの契約数

国名	人口(千人)	固定電話100人あたりの契約数(件)		携帯電話100人あたりの契約数(件)			
	2020年	2000年	2010年	2020年	2000年	2010年	2020年
韓国	51845	54.6	57.6	46.5	56.6	102.5	137.5
フランス	64480	57.6	64.6	57.8	49.2	91.9	111.5
インドネシア	271858	3.1	16.9	3.5	1.7	87.4	130.0
日本	125245	48.6	51.0	49.0	52.4	95.9	154.2

(注) 携帯電話とは、携帯電話などの移動しながら通話できる電話のことである。

(〔世界国勢図会 2022/23〕などより作成)

- ア 4か国すべてにおいて、2000年、2010年、2020年のすべての年で、固定電話100人あたりの契約数よりも携帯電話100人あたりの契約数の方が多い。
イ フランスは、2000年、2010年、2020年のすべての年で、固定電話100人あたりの契約数と携帯電話100人あたりの契約数ともに、4か国中で最も多い。
ウ 2000年と2020年を比較すると、固定電話100人あたりの契約数が減っている国は韓国のみで、携帯電話100人あたりの契約数が最も増えている国はインドネシアである。
エ 人口と携帯電話100人あたりの契約数から、2020年における国内の携帯電話契約数を計算すると、携帯電話契約数が最も多いのは、日本である。

4 次のパネルA～Dは、たえさんたちが、「千葉県に関連する歴史上のことがら」をテーマに作成したものの一部である。これに関して、あとの(1)～(5)の問いに答えなさい。

A：宮ノ台式土器

写真
(著作権の関係で省略)

茂原市にある宮ノ台遺跡から出土した土器は、弥生時代中期の代表的な土器であり、^a宮ノ台式土器と呼ばれる。

B：上総国分尼寺跡

写真
(著作権の関係で省略)

市原市にある上総国分尼寺跡は、聖武天皇の命令で、国ごとに造られた国分尼寺の跡地である。現在、復元された建物が建てられている。

C：誕生寺

写真
(著作権の関係で省略)

日蓮は、鎌倉時代に各地で仏教を学んだ後、日蓮宗を開いた。鴨川市には、この地域で生まれた日蓮にちなんで、誕生寺が建てられている。

D：南総里見八犬伝

写真
(著作権の関係で省略)

江戸時代に滝沢馬琴が書いた『南総里見八犬伝』は、千葉県南部を舞台とする長編小説である。

(1) パネルA中の下線部aの時代に起こった世界のことがらとして最も適当なものを、次のア～エのうちから一つ選び、その符号を書きなさい。

- ア ナイル川流域で生まれたエジプト文明では、巨大なピラミッドが築かれた。
- イ イタリア半島のローマは、領土を拡大し地中海一帯を支配し、ローマ帝国になった。
- ウ 中国では、^{こうが}黄河の流域に、^{せいどうき}すぐれた青銅器の文化をもつ^{いん}殷という国がおこった。
- エ チグリス川とユーフラテス川に挟まれたメソポタミアを、ハンムラビ王が統一した。

- (2) パネルB中の下線部bに関連して、次の文章は、聖武天皇が行った政策について述べたものである。文章中の にあてはまる適当な語を漢字3字で書きなさい。

人口の増加やひでり、洪水などの自然災害により耕作できない土地がでてくると、性別や身分に応じて与えられていた が不足してきた。そこで、人々に開墾をすすめるために、聖武天皇の命令で、朝廷は743年に墾田永年私財法を出した。

- (3) パネルC中の下線部cの時代に起こったことがらを、次のア～エのうちから三つ選び、年代の古いものから順に並べ、その符号を書きなさい。

- ア 北条泰時は、武士の慣習に基づいて、御成敗式目(貞永式目)を定めた。
 イ 元の皇帝フビライ・ハンは、高麗を従えた後、日本にも服属を要求してきた。
 ウ 後鳥羽上皇は、幕府を倒そうと兵を挙げたが、敗れて隠岐に流された。
 エ 白河天皇は、天皇の位をゆずった後も、上皇として政治を動かす院政を行った。

- (4) パネルD中の下線部dに関連して、次の文章は、江戸時代の改革について述べたものである。文章中の I II にあてはまるものの組み合わせとして最も適当なものを、あとのア～エのうちから一つ選び、その符号を書きなさい。

1841年、老中の I は、社会の安定と幕府の強化をめざして、天保の改革を始めた。その中で、 I は、物価の上昇をおさえるために、営業を独占していた II を命じた。

- ア I : 水野忠邦 II : 株仲間の解散 イ I : 松平定信 II : 株仲間の解散
 ウ I : 水野忠邦 II : 座の廃止 エ I : 松平定信 II : 座の廃止

- (5) パネルD中の下線部dに関連して、次の文章は、江戸時代の海外との交流について述べたものである。文章中の にあてはまる語として最も適当なものを、あとのア～エのうちから一つ選び、その符号を書きなさい。

江戸幕府が海外との交流を制限したため、当時の日本は、後に「鎖国」とよばれる状態だった。しかし、長崎・薩摩・対馬・松前の4つの窓口を通じて、海外と交易が行われていた。それぞれの窓口が、特定の相手と交易を行っており、対馬は と交易を行っていた。

- ア 蝦夷地 イ オランダ ウ 琉球 エ 朝鮮

5 次の略年表は、ひろとさんが、「近代日本医学の歴史」と関わりの深い北里柴三郎^{きたさとしばさぶろう}について、まとめたものの一部である。これに関して、あとの(1)~(5)の問いに答えなさい。

年代	北里柴三郎 略年表
1853	熊本 ^{あそくん} 阿蘇郡小国町に生まれる
<u>1871</u>	医学所へ入学する
a	
1886	ドイツに留学する
1890	破傷風 ^{はしょうふう} の血清療法 ^{けっせいりょうほう} を確立する
1894	ペスト菌 ^{きん} を発見する
	↑ A
1914	北里研究所を創立する
	↓ B
<u>1931</u>	78歳で亡くなる
b	
2019	科学の発展などの面から、日本の近代化に大きく貢献したことなどを理由に新千円札の図柄に北里柴三郎の肖像 ^{しょうぞう} 採用が決定される
	c

(1) 略年表中の下線部 a に関連して、次の文章は、1871 年に派遣された使節団について述べたものである。文章中の I , II にあてはまる人物名の組み合わせとして最も適当なものを、あとのア~エのうちから一つ選び、その符号を書きなさい。

政府は、不平等条約の改正などを目的として、I を代表(大使)とした大規模な使節団を派遣した。使節団には、5 人の女子留学生も同行し、最年少のII は、アメリカで 11 年間の教育を受けた。後に女子英学塾をつくり、女子教育に生涯をささげた。

- ア I : 福沢諭吉^{ふくざわ 諭吉} II : 津田梅子^{つ だうめこ} イ I : 福沢諭吉 II : 樋口一葉^{ひぐちいちよう}
 ウ I : 岩倉具視^{いわくらともみ} II : 津田梅子 エ I : 岩倉具視 II : 樋口一葉

(2) 略年表中の A の時期に起こったことがらを、次のア~エのうちから三つ選び、年代の古いものから順に並べ、その符号を書きなさい。

- ア 日本は韓国を併合して植民地とし、朝鮮総督府^{そうとくふ}をおいて支配した。
 イ 日本とイギリスは、協力してロシアに対抗するために、日英同盟を結んだ。
 ウ 日本は中国に対して、二十一か条の要求を提出し、多くの要求を認めさせた。
 エ ロシアは、ドイツ・フランスを誘って、遼東半島^{りょうとうはんとう}を清に返すよう日本にせまった。
 リヤオトン

- (3) 次の文章は、略年表中のBの時期に起こったことについて述べたものである。文章中の I にあてはまる適切な語を書きなさい。また、 II にあてはまる語として最も適切なものを、あとのア～エのうちから一つ選び、その符号を書きなさい。

第一次世界大戦後、アメリカの呼びかけで1921年から翌年にかけて I 会議が開かれ、 II の主権尊重と領土の保護が確認された。この結果、日本が得た山東省さんとうしやんとんの権益が、 II に返還された。

ア ソ連 イ 朝鮮 ウ ドイツ エ 中国

- (4) 略年表中の下線部bに関連して、次の文章は、1931年に起こった満州事変まんしゅうじへんについて述べたものである。文章中の にあてはまる適切なことばを、「元首」「実権」の二つの語を用いて20字以内(読点を含む。)で書きなさい。

1931年、満州に駐留していた日本の軍隊は、南満州鉄道の線路を爆破し、これを中国側が行ったことだと主張して攻撃を始め、満州の大部分を占領した。その後、1932年につくられた満州国は、清の が握った。満州国には、不景気が続く日本から、多数の農民が集団で移住した。

- (5) 略年表中の下線部cに関連して、次の文章は、ひろとさんが、科学の発展に関することについてまとめたレポートの一部である。文章中の に共通してあてはまる都府県名として最も適切なものを、あとのア～エのうちから一つ選び、その符号を書きなさい。

1970年に「人類の進歩と調和」をテーマとして、 で開催された日本万国博覧会ばんこく(万国博覧会)には、77か国が参加し、当時の日本の発展と科学技術力を世界に示す場となった。そして、2025年に再び で、100か国以上が参加する日本国際博覧会を開催することが決定され準備が進められている。

ア 福岡県 イ 大阪府 ウ 愛知県 エ 東京都

6 次の文章を読み、あとの(1)~(3)の問いに答えなさい。

令和4年4月の成人年齢引き下げにより、18歳と19歳の若者は、成人として自らの意思で契約することができるようになりました。若者をねらった消費者トラブルに巻き込まれないために、未成年のうちから消費者保護に関するしくみや金融などの経済に関する知識を学んでいくことが必要です。多くの情報を適切に処理し、さまざまな知識を身に付けることは、自分の身を守るだけでなく、公正で公平な社会を築くための力にもなります。

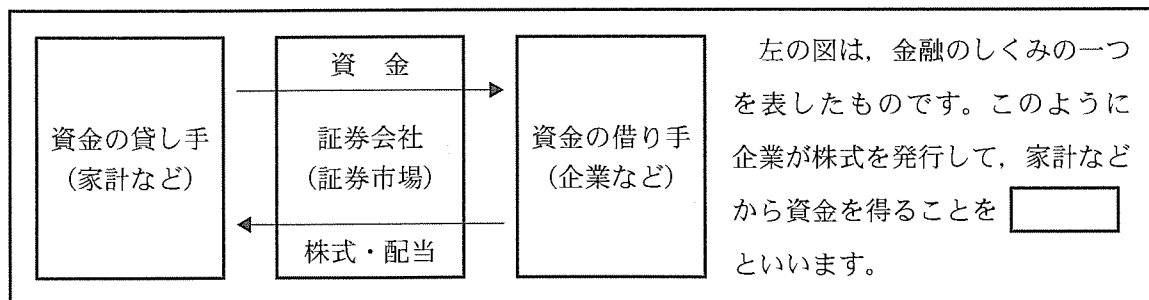
- (1) 下線部 a に関連して、次のカードは、あおいさんが、消費者保護について学習するために使用したものである。カードの表面には消費者保護に関する制度や法律の名称を、裏面にはその説明が書かれている。このカードの表面に書いてあるものとして最も適当なものを、あとのア~エのうちから一つ選び、その符号を書きなさい。

あおいさんの作成したカード(裏面)

国や地方公共団体の責務として、消費者の保護や消費者が自立的に消費活動を行えるように支援を定めたもの。

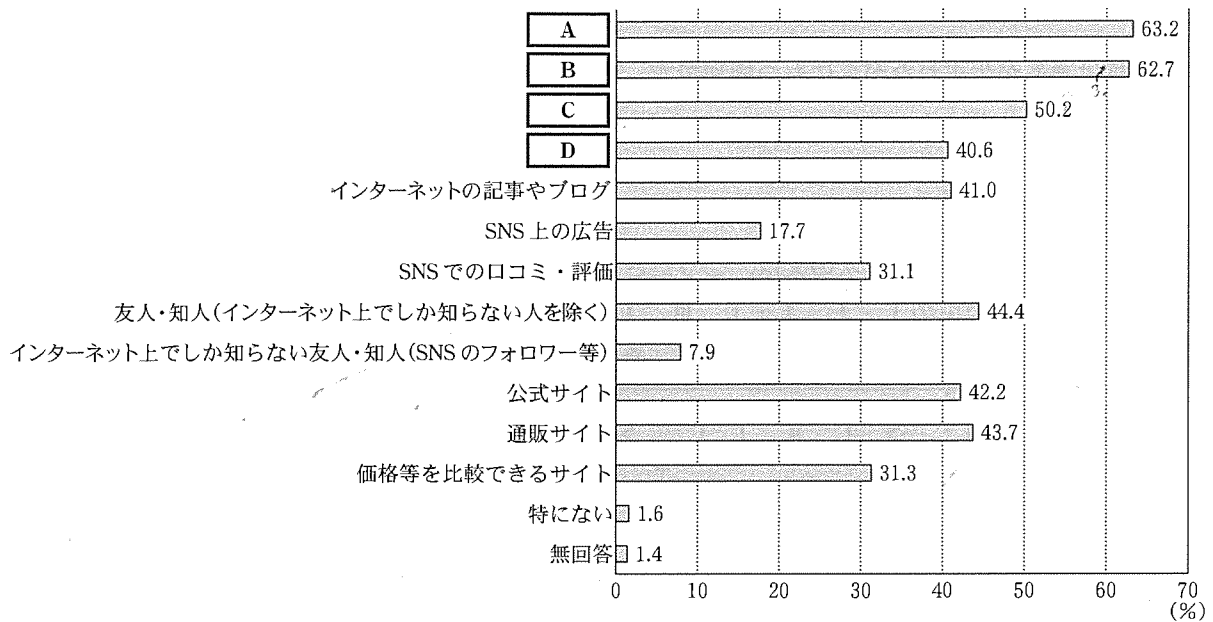
- ア クーリング・オフ制度 イ 消費者契約法
ウ 製造物責任法(PL法) エ 消費者基本法

- (2) 下線部 b に関連して、次の文章は、わたるさんが、金融のしくみについてまとめたレポートの一部である。文章中の にあてはまる最も適当な語を漢字4字で書きなさい。



- (3) 下線部 c に関連して、次のページの資料1は、社会科の授業で、ゆきおさんたちが「消費者は商品やサービスを購入する際にどこから情報を得ているのか」をテーマに調べたものであり、資料2は、資料1の A ~ D を年齢階級別にまとめたものである。また、資料3は、資料1と資料2から読み取ったことがらをまとめたものの一部である。資料1と資料2中の A ~ D には、それぞれ共通した項目があてはまる。 A ~ D にあてはまる項目として最も適当なものを、あとのア~エのうちからそれぞれ一つずつ選び、その符号を書きなさい。

資料1 商品やサービスの購入を検討する際、情報を得ているものとして選択した割合(複数回答)



資料2 資料1のA～Dの項目を選択した割合について年齢階級別にまとめたもの

	A	B	C	D
15～19歳	45.4(%)	52.1(%)	18.3(%)	60.0(%)
20～29歳	60.3(%)	50.8(%)	19.0(%)	57.9(%)
30～39歳	66.1(%)	55.5(%)	29.7(%)	56.6(%)
40～49歳	67.2(%)	58.0(%)	37.7(%)	52.9(%)
50～59歳	66.4(%)	66.8(%)	54.2(%)	48.6(%)
60～69歳	66.1(%)	69.8(%)	64.3(%)	35.0(%)
70～79歳	60.4(%)	67.8(%)	72.0(%)	16.1(%)
80歳以上	54.8(%)	66.2(%)	72.6(%)	5.5(%)

(資料1、資料2とも、消費者庁「令和3年消費者意識基本調査」より作成)

資料3 資料1及び資料2から読み取ったことをまとめたものの一部

- ・「テレビ・ラジオの番組・広告」の割合は、資料1でみると「インターネット上の広告」より高く、資料2でみると、65%以上の割合で選択されている年齢階級が4つある。
- ・「店頭・店員」の割合は、資料1でみると「新聞・雑誌等の記事・広告」より高く、資料2でみると、40歳以上は年齢階級が高くなるほど選択される割合が下がっている。
- ・「インターネット上の広告」の割合は、資料1でみると、「店頭・店員」より低く、資料2でみると、20歳以上50歳未満の年齢階級では50%以上60%未満の割合で選択されている。
- ・「新聞・雑誌等の記事・広告」の割合は、資料1でみると、「テレビ・ラジオの番組・広告」より低く、資料2でみると、年齢階級が高くなるほど選択している割合が高い。

ア テレビ・ラジオの番組・広告

イ 店頭・店員

ウ インターネット上の広告

エ 新聞・雑誌等の記事・広告

7 次の文章を読み、あとの(1)~(3)の問いに答えなさい。

人権は誰もが生まれながらにもつ権利です。日本国憲法では、自由権・社会権・参政権・請求権^aなどを基本的人権として定めています。また、社会の変化とともに、新しい人権^bを認める必要が生まれました。国会^cにおいても新しい人権のあり方について、議論されています。

(1) 下線部 a に関連して、次の文は、こうたさんが、人権思想の発展についてまとめたレポートの一部である。図中の **I** ~ **III** にあてはまる文として最も適当なものを、あとのア~ウのうちからそれぞれ一つずつ選び、その符号を書きなさい。

I	→	II	→	III	左の図は、人権思想がどのように発展したのかを示しており、私たちのもつ基本的人権は、長い歴史の中で獲得されたものです。
自由な経済活動の結果、 経済的な格差が拡大する。	↑	第二次世界大戦後に 国際連合が発足する。	↑		

- ア 国王が支配する専制的な政治が、市民革命によって倒され、表現の自由や信仰の自由などの自由権、身分制度を否定する平等権が保障される。
- イ すべての人に、人権があることを明記した世界人権宣言が採択され、各国における人権保障の基準となる。
- ウ すべての人が、人間らしく生活できるように保障することも国家の役割だと考えられ、社会権が認められるようになる。

(2) 下線部 b に関連して、次の文章は、みつおさんが新しい人権についてまとめたレポートの一部である。文章中の にあてはまる適当な語を漢字 4 字で書きなさい。

主権者として政治に関する判断をするために、国や地方自治体の活動を知る必要がある。そのために「知る権利」が認められ、この権利に基づき、国民は国や地方自治体が作成し保存している公文書などを見ることができる。このしくみを 制度という。

(3) 下線部 c に関連して、次の資料は、社会科の授業で、ゆきさんたちの班が作成した国会と国政選挙についてまとめたものの一部である。資料 1 と資料 2 を参考に、第 206 回国会が特別会(特別国会)である理由を、「30 日以内」の語を用いて 40 字以内(句読点を含む。)で書きなさい。

資料 1 国会の種類と期間

国会	国会の種類	期間
第 205 回国会	臨時会	令和 3 年 10 月 4 日 ~ 令和 3 年 10 月 14 日 (衆議院解散)
第 206 回国会	特別会	令和 3 年 11 月 10 日 ~ 令和 3 年 11 月 12 日
第 207 回国会	臨時会	令和 3 年 12 月 6 日 ~ 令和 3 年 12 月 21 日
第 208 回国会	常会	令和 4 年 1 月 17 日 ~ 令和 4 年 6 月 15 日
第 209 回国会	臨時会	令和 4 年 8 月 3 日 ~ 令和 4 年 8 月 5 日

資料 2 国政選挙

選挙	投票日
第 49 回衆議院議員総選挙	令和 3 年 10 月 31 日
第 26 回参議院議員通常選挙	令和 4 年 7 月 10 日

(資料 1, 資料 2 とも、衆議院ホームページなどより作成)

- 8 次の文は、社会科の授業で、「地域主義(地域統合)について考えよう」をテーマに話し合いを行ったときに出た生徒の意見の一部である。これに関して、あとの(1)、(2)の問いに答えなさい。

経済分野だけでなく、その他のさまざまな課題に連携して取り組んでいくためにも積極的に特定の地域の国々との協力関係を強化していく必要があると考えます。

a

EUでは、加盟国内の経済格差などのさまざまな課題があり、多国間で統合していくことのデメリットもあるため、地域の国々との連携は慎重に進めていく必要があると考えます。

b

- (1) 下線部 a に関連して、次の表は、生徒が地域主義(地域統合)についてまとめたレポートの一部である。表中の I ~ IV にあてはまる地域として最も適当なものを、あとのア ~ エのうちからそれぞれ一つずつ選び、その符号を書きなさい。

地 域	I	II	III	IV
地域主義(地域統合)	ASEAN	APEC	USMCA	MERCOSUR

ア 北アメリカ イ 南アメリカ ウ アジア・太平洋 エ 東南アジア

- (2) 下線部 b に関連して、次の文章は、日本が他の国々と経済的な連携を深めるために、結ばれた協定についてまとめたものである。文章中の に共通してあてはまる最も適当な語を、アルファベットの大文字 3 字で書きなさい。

当初は太平洋を囲む国々を中心とした 12 か国で 協定の発効を目指していたが、2017 年にアメリカ合衆国が離脱した。しかし、2018 年に日本も含めた 11 か国が合意して 11 協定を新たに調印し、貿易の自由化など経済的なつながりを加盟国内で強めています。