

地図を身近に（3）－ 県の形から覚えよう② 中級編 －

「県の形を覚えよう①」はいかがでしたか。形をさがすために、地図帳をよく見るので、それだけでも地図になれることにつながります。地図帳をいつも自分のそばに置いて使う事が大切です。

さて、今回から中級編です。

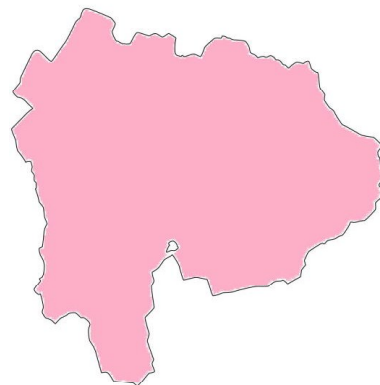
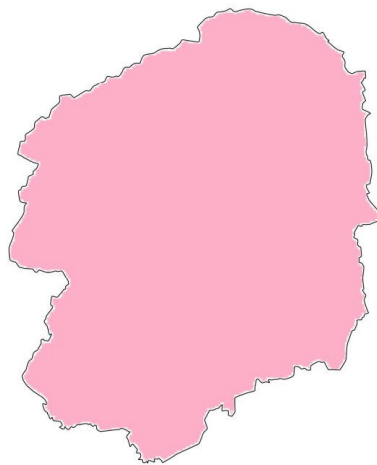
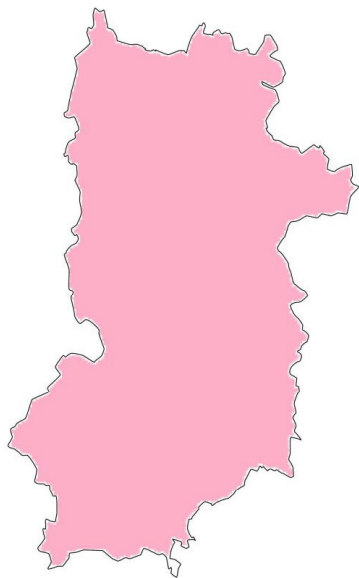
下の①～⑥の形はどこの県でしょう。地図帳とにらめっこしながらみつけてみましょう！

※一部向きが変えてある県や省略してある県があります。

<ヒント>

みなさんは、海なし県（海岸線を持たない県）は日本でいくつあるか知っていますか。全国で8つの県しかありません。下の地図は、全部がその海なし県です。

① () ② () ③ ()



④ () ⑤ () ⑥ ()

