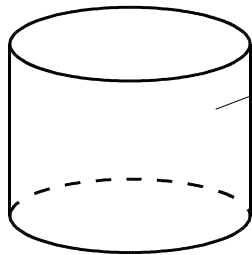


和算に挑戦しよう！(その3)

今回は、和算の中でも、パズルのような「油分け算」に挑戦してみましょう。

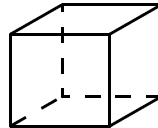
【問題】

容器ようきに水が10L入っています。これを、7Lますと3Lますを使い、5Lずつに分けてください。どのような分け方をするとよいでしょうか。

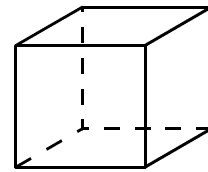


10L容器

10Lの水が
入っている



3Lます



7Lます