

チャレンジ問題 (よみとりましょう)

くみ ばん なまえ

げんきぼくじょう には、うま うし ひつじ
ぶた が みぎの かんばんのように います。

(1) この ぼくじょうで いちばん おおい
どうぶつは なんですか。
また、なんとうですか。

どうぶつ
こたえ が とう

(2) この ぼくじょうで いちばん すくない
どうぶつは なんですか。
また、なんとうですか。





















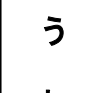

どうぶつ
こたえ が とう

(3) うまと うしでは どちらが どれだけ
おおい ですか。

(しき)

どうぶつ
こたえ が とう おおい。

(4) ひつじを こやに いれます。3とうずつ わけると こやは いくつ
いりますか。

げんきぼくじょう			
			
			
			
			
			
			
			
			
う ま	う し	ひ つ じ	ぶ た

こたえ つ

チャレンジ問題 (よみとりましょう) こたえ・せつめい

くみ ばん なまえ

げんきぼくじょう には、うま うし ひつじ
ぶた が みぎの かんばんのように います。

(1) この ぼくじょうで いちばん おおい
どうぶつは なんですか。
また、なんとうですか。

どうぶつ

こたえ **ひつじ** が **9** とう

(2) この ぼくじょうで いちばん すくない
どうぶつは なんですか。
また、なんとうですか。

どうぶつ

こたえ **ぶ た** が **2** とう

(3) うまと うしでは どちらが どれだけ
おおい ですか。


ちがいは ひきざんに
なります。

(しき) $8 - 3 = 5$

どうぶつ

こたえ **う ま** が **5** とう おおい。

(4) ひつじを こやに いれます。3とうずつ わけると こやは いくつ
いりますか。



げんきぼくじょう

う	う	ひつじ	ぶ
ま	し	た	た

こたえ **3** つ