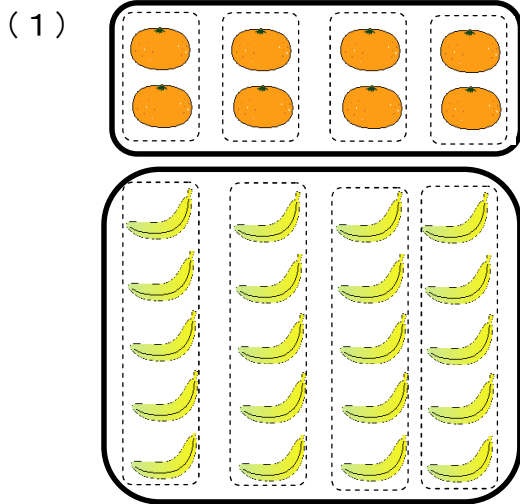


1 次の計算をしましょう。

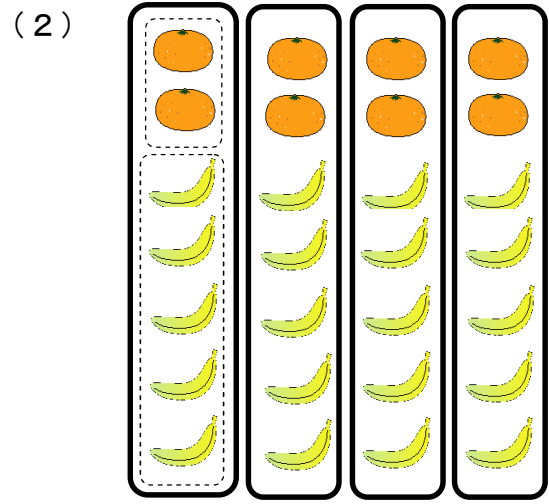
① $36 \div 6 \times (13 + 27)$

② $48 - 32 \div 8 \times 2$

2 みかんとバナナをあわせていくつあるかを、次のように求めました。図にあう式を選び記号で答えましょう。



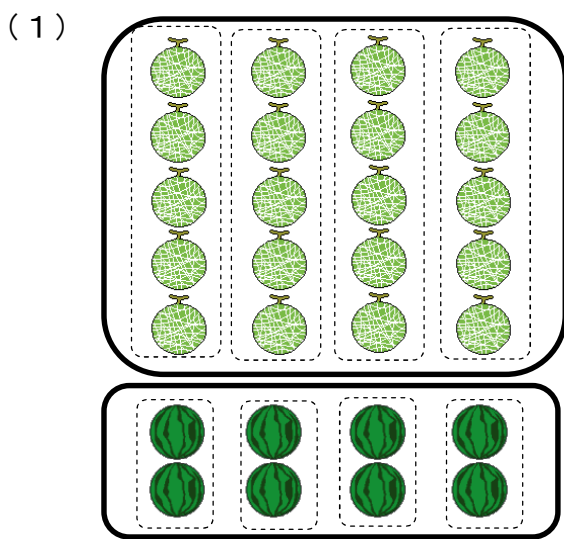
答え



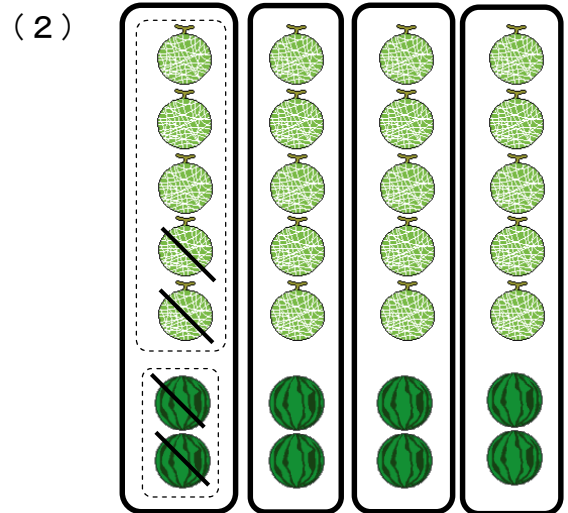
答え

- | | |
|-----------------------------|-----------------------------|
| ア $4 \times 2 + 4 \times 5$ | イ $2 \times 4 + 5 \times 4$ |
| ウ $(2 + 5) \times 4$ | エ $4 \times (2 + 5)$ |

3 メロンとすいかの個数のちがいを、次のように求めました。図にあう式を選び記号で答えましょう。



答え



答え

- | | |
|-----------------------------|-----------------------------|
| ア $(5 - 2) \times 4$ | イ $4 \times 7 - 4 \times 5$ |
| ウ $4 \times 5 - 4 \times 2$ | エ $5 \times 4 - 2 \times 4$ |

小4 算数「式と計算の順じよ」解答・解説

1 次の計算をしましょう。

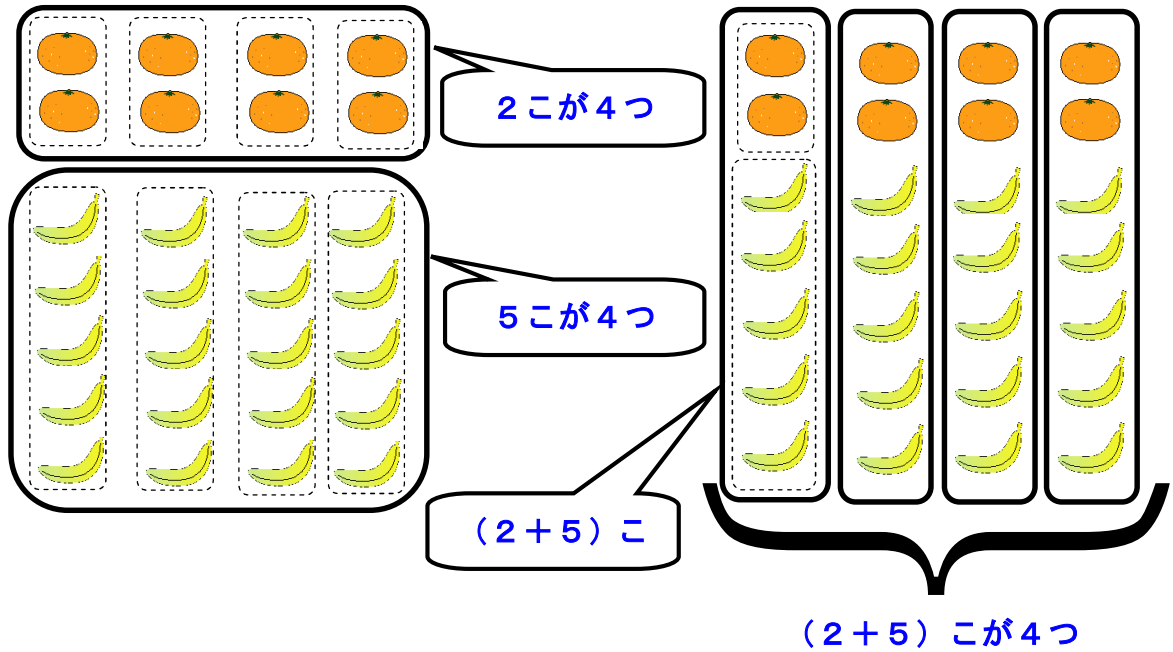
(1) $36 \div 6 \times (13 + 27) = 36 \div 6 \times 40 \leftarrow$ **かっこを先に計算します。**
 $= 6 \times 40 \leftarrow$ **左から順に計算します。**
 $= 240$

(2) $48 - 32 \div 8 \times 2 = 48 - 4 \times 2 \leftarrow$ **+, -より×, ÷を先に計算します。**
 $= 48 - 8$
 $= 40$

2 (1) 答え ①

答え ㉞

【解説】



3 (1) 答え ②

答え ㉟

