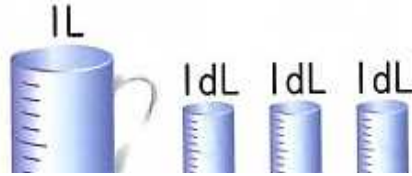


小2 算数「かさ」

くみ ばん 名まえ

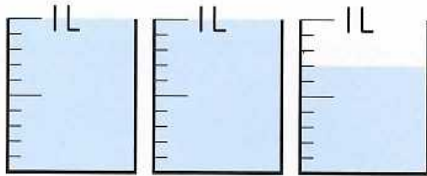
1 水の かさは、どれだけでしょうか。

(1)



L	dL
---	----

(2)



L	dL
---	----

2 □に あてまはる 数を かきましょう。

(1) 1 L =  d L      (2) 1 L =  mL

(3) 300 mL =  d L      (4) 2 d L =  mL

3 かさの 多い じゅんに ならべましょう。

13 dL                      1L5 dL                      2L                      900mL

⇒                              ⇒                              ⇒

4 □に あてはまる かさの たんいを かきましょう。

- (1) 牛にゆうの パック                      2
- (2) ジュースの ペットボトル                      500
- (3) やかん    3

5 ジュースが1L6dL 牛にゆうが8dLあります。

ちがいは どれだけに なりますか。

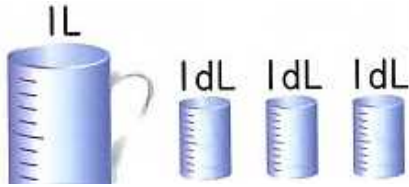
(しき)

(こたえ)

小2 算数「かさ」こたえ・せつめい

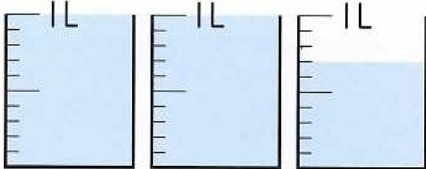
1 水の かさは、どれだけでしょうか。

(1)



1 L 3 dL

(2)



2 L 7 dL

1 L = 10 d L = 1000 mL  
をもとにして、考えよう。

2 □に あてまはる 数を かきましょう。

(1) 1 L =  d L (2) 1 L =  mL

(3) 300 mL =  d L (4) 2 d L =  mL

3 かさの 多い じゅんに ならべましょう。

13 dL                      1 L 5 dL                      2 L                      900 mL

2 L (2000 mL) → 1 L 5 d L (1500 mL) → 13 d L (1300 mL) → 900 mL

1 L = 10 d L = 1000 mL をもとにして、4 つとも mL に直すと考えやすいです。

4 □に あてはまる かさの たんいを かきましょう。

(1) 牛にゆうの パック	2	d L
(2) ジュースの ペットボトル	500	m L
(3) やかん	3	L

5 ジュースが1 L 6 d L 牛にゆうが8 d Lあります。

ちがいは どれだけに なりますか。

(しき)  $1 L 6 d L - 8 d L = 8 d L$

(こたえ) 8 d L