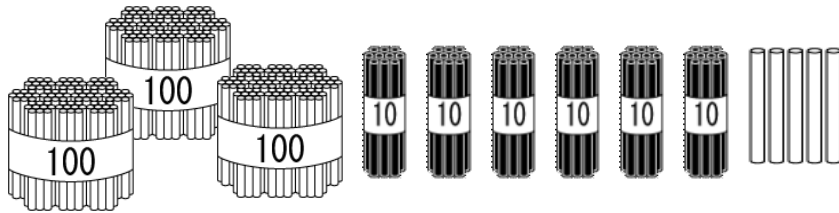


小2 算数「1000までの数」

くみ ばん 名まえ _____

1 何本 ありますか。数字で かきましょう。



こたえ _____ 本

2 つぎの 数を 数字で かきましょう。

(1) 八百六十

こたえ _____

(2) 三百八

こたえ _____

(3) 100を5こ, 10を3こ, 1を6こ あわせた 数

こたえ _____

(4) 10を18こ, 1を2こ あわせた数

こたえ _____

(5) 100を 10こ あつめた数

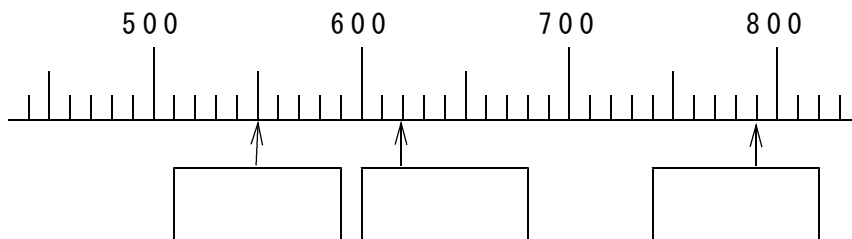
こたえ _____

3 □に あてはまる 数を かきましょう。

(1) 500 - 600 - □ - □ - 900 - □

(2) 1000 - □ - 900 - 850 - □

(3)

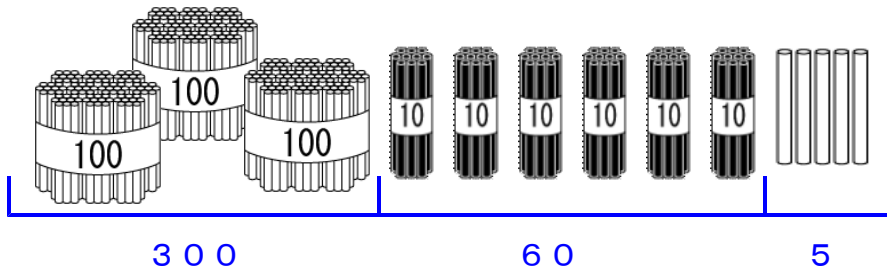


4 2つの 数を くらべて, □に >か <を かきましょう。

(1) 789 □ 876 (2) 450 □ 439

小2 算数「1000までの数」こたえ・せつめい

1 何本 ありますか。 数字で かきましょう。



こたえ 365 本

2 つぎの 数を 数字で かきましょう。

(1) 八百六十

こたえ 860

(2) 三百八

十や一のくらいがないばあいは
0をわすれずにかきます。

こたえ 308

(3) 100を5こ, 10を3こ, 1を6こ あわせた 数

こたえ 536

(4) 10を18こと, 1を2こ
あわせた数

10円玉や
100円玉で
かんがえると
わかりやすい
です。

こたえ 182

(5) 100を 10こ あつめた数

こたえ 1000

3 □に あてはまる 数を かきましょう。

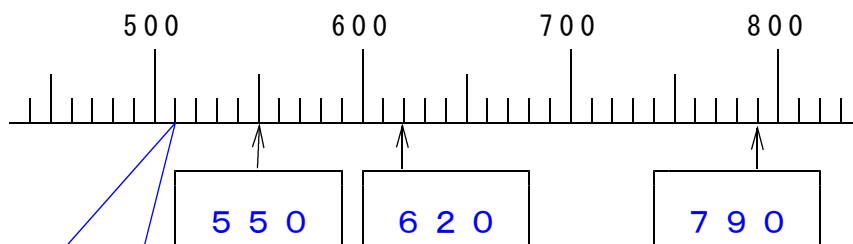
100ずつ ふえています

(1) 500 - 600 - 700 - 800 - 900 - 1000

(2) 1000 - 950 - 900 - 850 - 800

50ずつ
へっています。

(3)



一目もりが 10になっています。

4 2つの 数を くらべて, □に >か <を かきましょう。

(1) 789 < 876 (2) 450 > 439

数の大小を くらべる ときは, 大きいくらいの 数字から くらべて いきます。
この問だいでは, 百のくらいから じゅんに くらべて いきます。