

小1さんすう「3つのかずのけいさん」

くみ ばん なまえ

1 つぎの けいさんを しましょう。

(1) $3+3+4$

(2) $8+2+7$

(3) $9-3-4$

(4) $19-9-4$

(5) $10-8+5$

(6) $15+4-7$

2 バスに 14にん のって いました。

ていりゅうじよで 4にん おりました。 つぎに 8にん のりました。

バスには なんにん のって いますか。 1つの しきに しましょう。

(しき)

こたえ

3 「 $4+5-3$ 」の しきに なる おはなしを つくりましょう。



こうえんで 4にんの こどもが あそんでいました。

そこへ

にん

。

あとで、

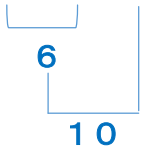
にん かえりました。

なんにんに なりましたか。

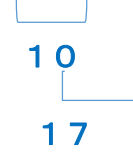
小1さんすう「3つのかずのけいさん」こたえ・せつめい

1 つぎの けいさんを しましょう。

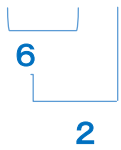
(1) $3+3+4=10$



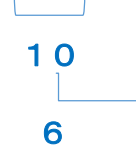
(2) $8+2+7=17$



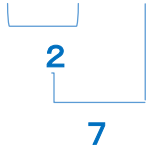
(3) $9-3-4=2$



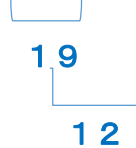
(4) $19-9-4=6$



(5) $10-8+5=7$



(6) $15+4-7=12$



まえから じゆんに けいさん しましょう。

2 バスに 14にん のって いました。

ていりゆうじよで 4にん おりました。 つぎに 8にん のりました。

バスには なんにん のって いますか。 1つの しきに しましょう。

(しき) $14 - 4 + 8 = 18$

こたえ 18 にん

3 「 $4+5-3$ 」の しきに なる おはなしを つくりましょう。



こうえんで 4にんの こどもが あそんでいました。

そこへ にん きました

あそびにきました など。

あとで、 にん かえりました。

なんにんに なりましたか。